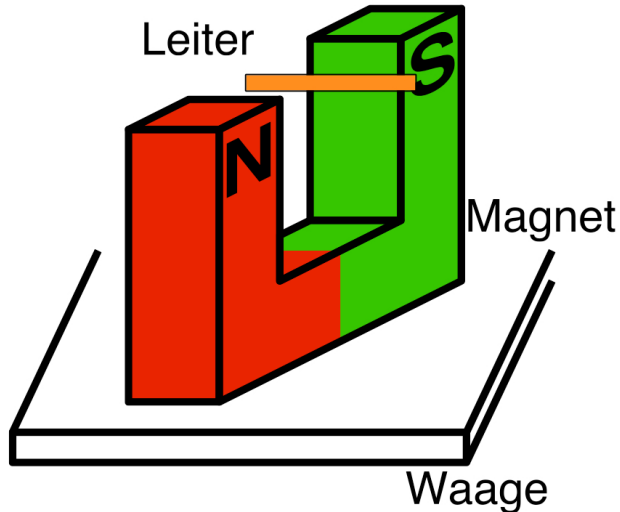



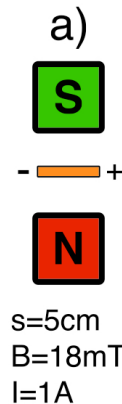
Aufgabe zum Versuch „Stromwaage“



Aufbau



von oben:



- Bestimme jeweils die Lorentzkraft inkl. ihrer Richtung.
- Was zeigt die Waage jeweils an?